

**Proves d'accés per a majors de 25 i 45 anys**  
**Pruebas de Acceso para Mayores de 25 y 45 años**

Convocatòria:  
Convocatoria:  
**2022**

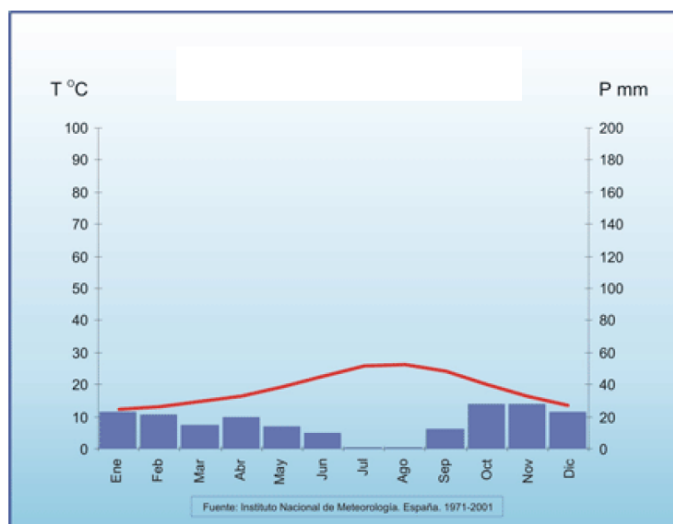


**Assignatura: Geografia**  
**Asignatura: Geografía**

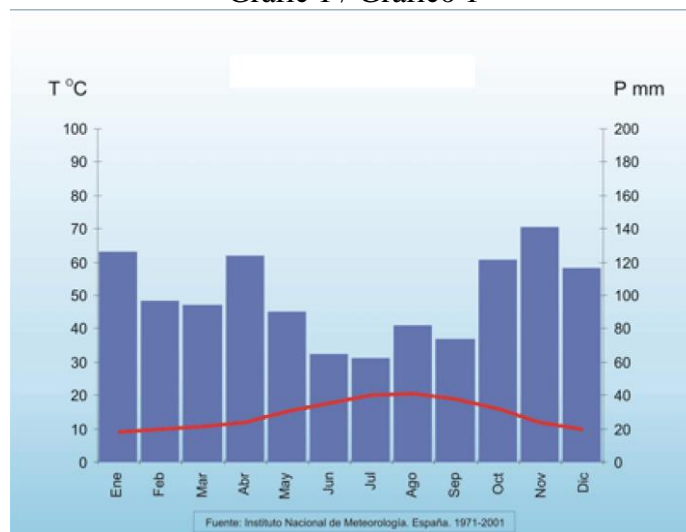


**PRIMER BLOC: Geografia física / PRIMER BLOQUE: Geografía Física**

1. A partir de les dades termopluiomètriques representades, escriviu un comentari de cada gràfic en què destaqueu els principals elements del clima.  
Valor de la pregunta: 3,33 punts
1. A partir de los datos termo-pluviométricos representados, realiza un comentario de cada gráfico destacando los principales elementos del clima.  
Valor de la pregunta: 3,33 puntos



Gràfic 1 / Gráfico 1



Gràfic 2 / Gráfico 2

2. A partir del mapa de precipitació mitjana anual representat en la figura 1, expliquen els factors que condicionen la distribució pluviomètrica d'Espanya.  
Valor de la pregunta: 3,33 punts.
2. A partir del mapa de precipitación media anual representado en la figura 1, explica los factores que condicionan la distribución pluviométrica de España.  
Valor de la pregunta: 3,33 puntos.

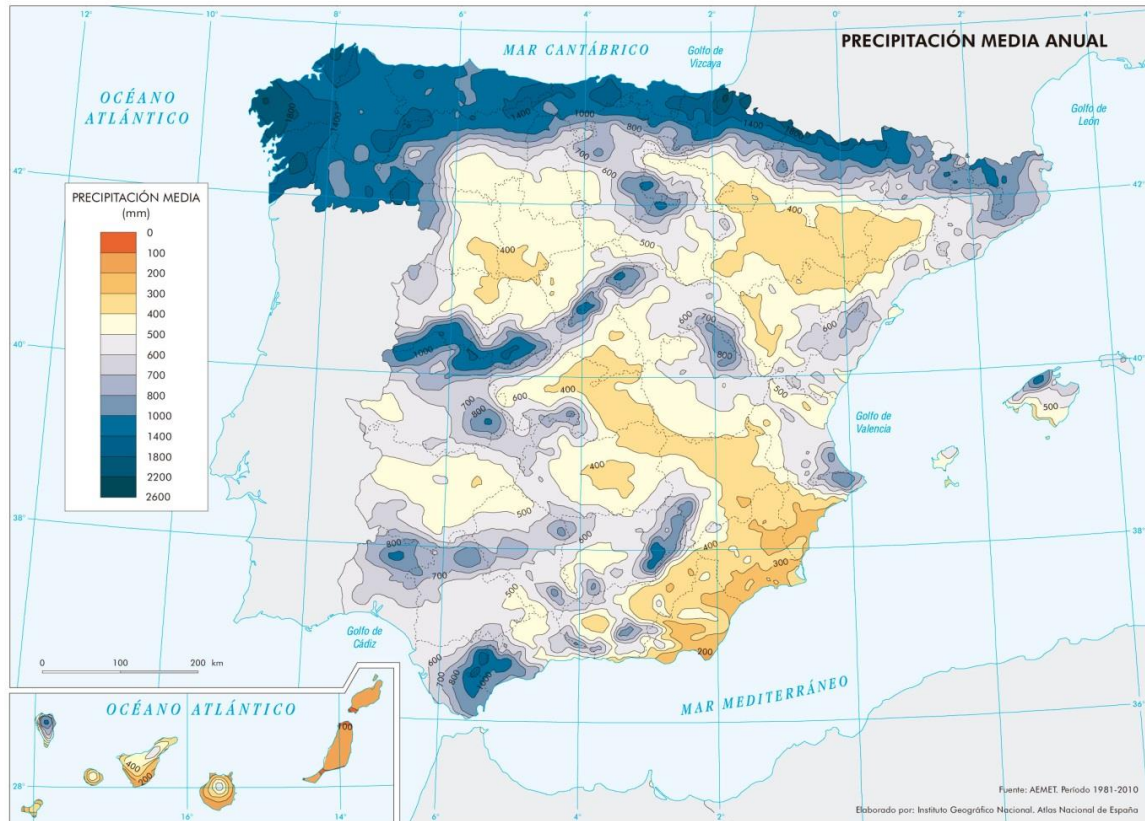


Figura 1

Font/fuente: Instituto Geográfico Nacional, *Atlas Nacional de España*

**SEGON BLOC: Geografia humana i econòmica /  
SEGUNDO BLOQUE: Geografía Humana y Económica**

3. Indiqueu com s'anomena la política de la Unió Europea que ha sigut i és fonamental en l'ordenació de l'espai rural espanyol. Expliqueu-ne algunes de les seues característiques.

Valor de la pregunta: 3,33 punts.

3. Indica como se denomina la política de la Unión Europea que ha sido y es fundamental en la ordenación del espacio rural español. Explica algunas de sus características.

Valor de la pregunta: 3,33 puntos.

4. A partir del mapa de cobertura de banda amplia (Internet) 100 Mbps (megabits per segon) representat en la figura 2.

a. Indiqueu el nom de les comunitats autònomes amb menys cobertura.

b. Indiqueu les conseqüències socioeconòmiques d'aquesta falta de cobertura en aquestes comunitats autònomes.

Valor de la pregunta: 3,33 punts.

4. A partir del mapa de cobertura de banda ancha (internet) 100 Mbps (Megabits por segundo) representado en la figura 2.

a. Indica el nombre de las comunidades autónomas con menor cobertura.

b. Indica las consecuencias socioeconómicas de esta falta de cobertura en estas comunidades autónomas.

Valor de la pregunta: 3,33 puntos.

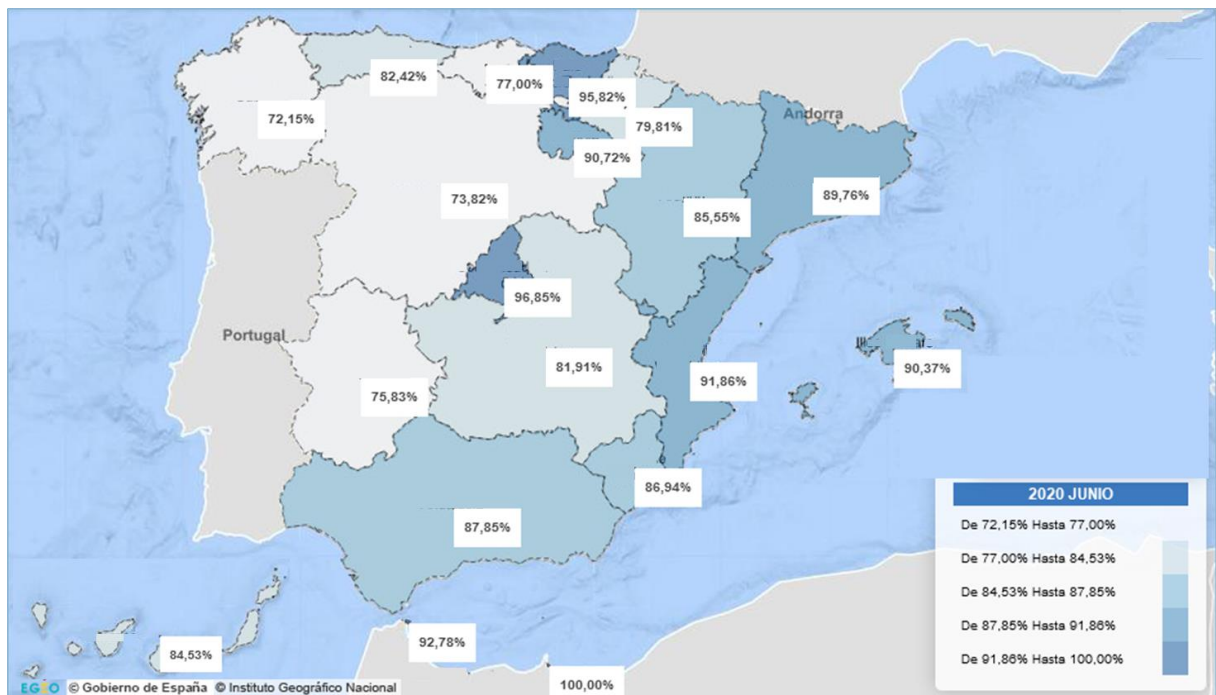


Figura 2

Font/fuente: Ministerio de Asuntos Económicos y Transformación Digital