



UNIVERSIDAD AUTÓNOMA DE MADRID
PRUEBA DE ACCESO A LA UNIVERSIDAD PARA MAYORES DE 25 AÑOS
Convocatoria **2013**

OPTATIVA

MATERIA: GEOGRAFÍA

INSTRUCCIONES GENERALES Y VALORACIÓN

INSTRUCCIONES: Dispone de dos opciones para contestar (A y B). **Debe escoger exclusivamente una de ellas.**

DURACIÓN DEL EJERCICIO: 1 hora y 30 minutos

CALIFICACIÓN: La puntuación total será en ambas de **10 puntos**, correspondiendo a la primera parte **1,5 puntos**, a la segunda, **4 puntos**, a la tercera **2,5 puntos** y **2 puntos** a la cuarta.

OPCIÓN A

1ª PARTE

Entre los 8 términos geográficos siguientes **elija 6 y defínalos**.

Meridiano, Erosión, Ría, Anticiclón, Estepa, Tasa de mortalidad infantil, Propiedad agraria, Tratado de Maastricht.

2ª PARTE

CORDILLERAS Y DEPRESIONES EXTERIORES DE LA MESETA. Desarrolle, de manera sintética, el tema propuesto, atendiendo al menos a:

- Principales cordilleras exteriores a la Meseta y sus características más destacadas.
- Las depresiones exteriores a la Meseta: descripción.

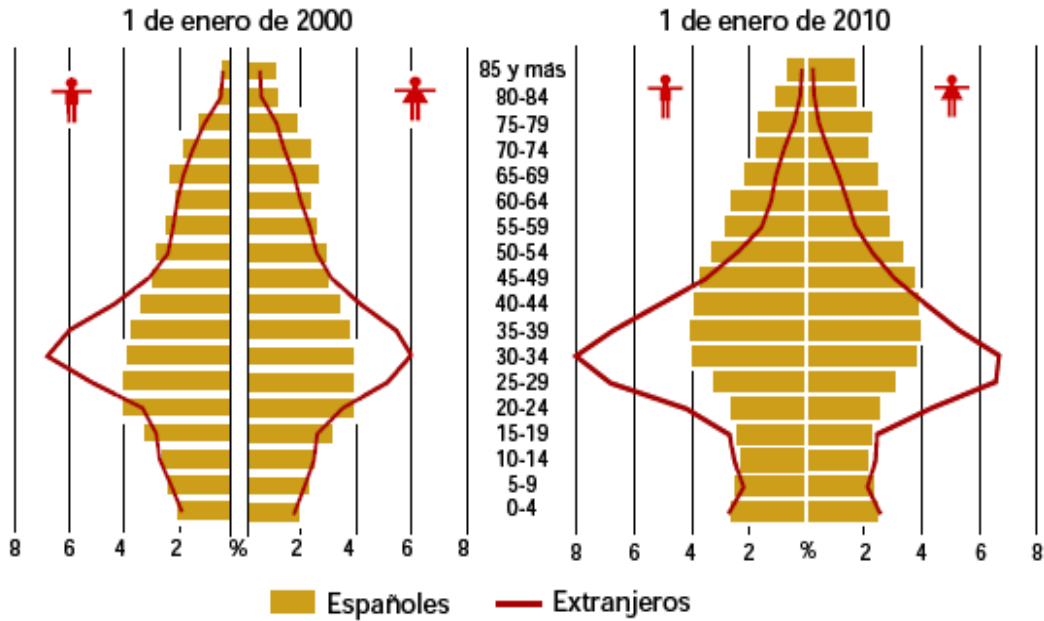
3ª PARTE

Comentario de gráficos sobre pirámides de población (*puntuación:*

Realice un comentario comparativo que recoge: **LAS PIRÁMIDES DE POBLACIÓN ESPAÑOLA Y EXTRANJERA EN LOS AÑOS 2.000 Y 2.010.** Atendiendo al menos a:

- Tipo de pirámides.
- Las transformaciones demográficas producidas entre las dos fechas.
- La comparación entre ambas pirámides de la población española y la extranjera.
- Consecuencias socio-económicas-demográficas de las migraciones.

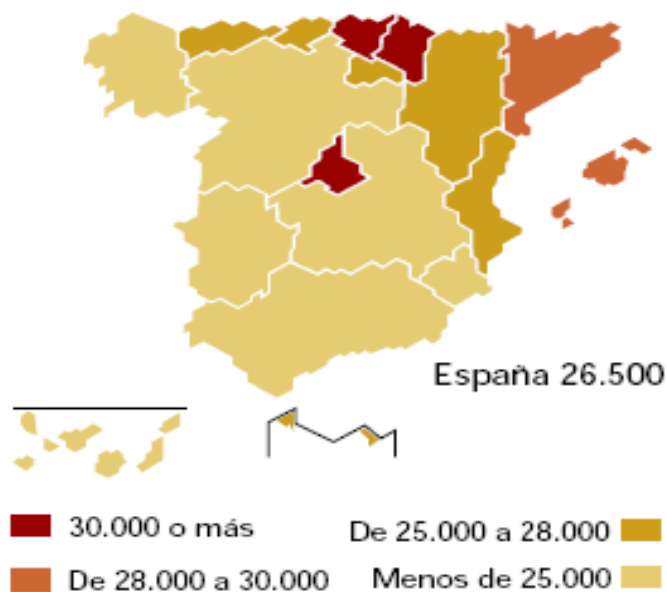
MATERIA: GEOGRAFÍA



Fuente: www.ine.es

4ª PARTE

A partir del mapa adjunto, que recoge **LA DISTRIBUCIÓN DE LA RENTA ANUAL MEDIA POR HOGAR (Euros/año) EN LAS COMUNIDADES AUTÓNOMAS EN EL 2008**, enumere las Comunidades Autónomas agrupándolas por los intervalos de la Renta anual neta media por hogar y exponga las razones que explican esa distribución.



Fuente: www.ine.es

OPCIÓN B

1ª PARTE

Entre los 8 términos geográficos siguientes **elija 6 y defínalos**.

Longitud, Acuífero, Cliserie, Acuicultura, Comercio minorista, Polígono industrial, Conurbación.

2ª PARTE

ESPAÑA EN LA UE: SU POSICIÓN. Desarrolle, de manera sintética, el tema propuesto, atendiendo al menos a:

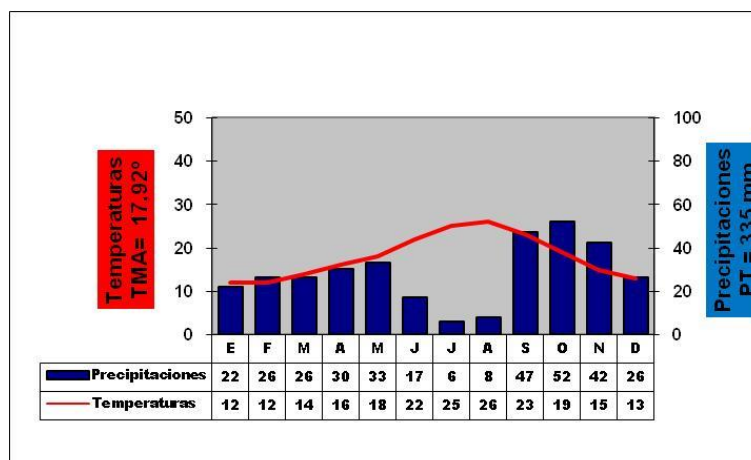
- El significado para la UE de la incorporación de España en 1986.
- La importancia de las ayudas para el desarrollo de España.
- La convergencia real hacia Europa.

3ª PARTE

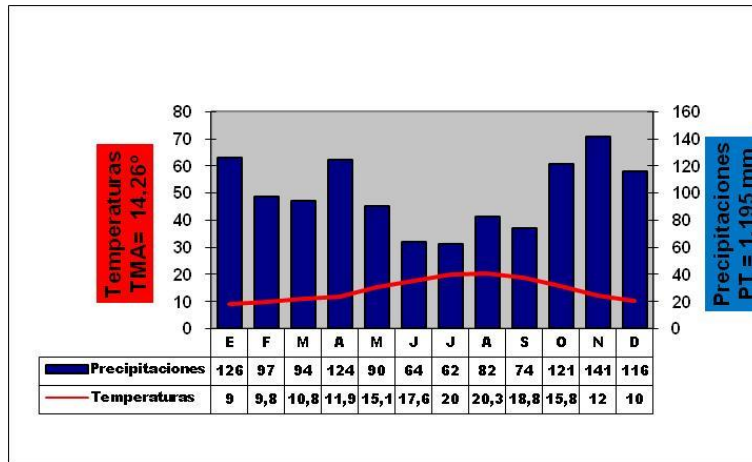
Comentario de climodiagramas de dos ciudades españolas:

Realice un comentario comparativo que recoge: **LOS CLIMODIAGRAMAS DE DOS CIUDADES ESPAÑOLAS DE LOS AÑOS 1.971-2000 (valores medios)**. Atendiendo al menos al:

- Análisis de las temperaturas.
- Análisis de las precipitaciones y el régimen pluviométrico.
- Análisis comparativo entre ambos.
- Tipo de clima y posible localización de la ciudad.



MATERIA: GEOGRAFÍA



Fuente: AEMET, <http://www.slideshare.net/Panije/climogramas-capitales-provinciales-espa>

4ª PARTE

A partir del mapa adjunto, que recoge **LA TASA BRUTA DE NATALIDAD DE LAS COMUNIDADES AUTÓNOMAS EN EL 2010 (nacidos por cada 1000)**, enumere las Comunidades Autónomas agrupándolas por los intervalos de la Tasa bruta y exponga la situación de la natalidad en España que explica esa distribución.



Fuente: www.ine.es

	UNIVERSIDAD AUTÓNOMA DE MADRID PRUEBA DE ACCESO A LA UNIVERSIDAD PARA MAYORES DE 25 AÑOS Convocatoria 2013 MATERIA: GEOGRAFÍA	OPTATIVA
--	---	-----------------

CRITERIOS ESPECÍFICOS DE CORRECCIÓN

De forma general, la prueba de la materia Geografía tendrá una puntuación total de 10 puntos, repartidos de la siguiente manera:

- Pregunta 1: 1,5 puntos
- Pregunta 2: 4 puntos
- Pregunta 3: 2,5 puntos
- Pregunta 4: 2 puntos

De forma más específica, la evaluación de los contenidos de cada una de las preguntas atenderá a los **criterios** y a las **respuestas** que se detallan a continuación:

OPCIÓN A:

➤ **Pregunta 1 (1,5 puntos).** Definición de 6 conceptos geográficos

Las definiciones deberán valorarse con un criterio amplio, ya que son numerosas las correctas posibilidades expresivas. En todo caso, se atenderá a la precisión geográfica en la caracterización del término.

Para una valoración más ajustada, a cada término o concepto aconsejamos aplicar una puntuación parcial máxima de **0'25 puntos por definición**.

Dos conceptos regularmente contestados pueden suponer 0,25 puntos para así ajustar la calificación final de la pregunta.

➤ **Pregunta 2 (4 puntos).** Desarrollo de un tema

En esta pregunta se aconseja igualmente la valoración con un criterio amplio que se relacione con aspectos de contenido (2 puntos para las principales cordilleras exteriores a la Meseta y sus características más destacadas, 2 puntos por la descripción de las depresiones exteriores a la Meseta) y expositivos (claridad y organización sintética de los conocimientos, correcta localización y distribución espacial, comprensión y caracterización de los fenómenos geográficos y sus interrelaciones, junto con el uso de un vocabulario geográfico adecuado).

➤ **Pregunta 3 (2,5 puntos)** Comentario de gráficos sobre pirámides de población (*puntuación: 2,5 puntos*):

La comparación entre las pirámides de población española y extranjera en los años 2.000 y 2.010. Se recomienda para su valoración tener en cuenta el seguimiento de los epígrafes planteados en la propia pregunta: atendiendo al menos a:

- Tipo de pirámides.
- Las transformaciones demográficas producidas entre las dos fechas.
- La comparación entre ambas pirámides de la población española y la extranjera.
- Consecuencias socio-económicas-demográficas.

➤ **Pregunta 4 (2 puntos).** Localización y explicación de un hecho geográfico

En esta pregunta se recomienda la valoración de 1 punto para la correcta localización de las comunidades autónomas españolas según sea la distribución de la renta anual media por hogar (euros/año) en el 2.008.

Y el punto restante acorde con la exposición de las razones de dicha distribución.



MATERIA: GEOGRAFÍA

OPCIÓN B:

➤ **Pregunta 1 (1,5 puntos).** Definición de 6 conceptos geográficos

Las definiciones deberán valorarse con un criterio amplio, ya que son numerosas las correctas posibilidades expresivas. En todo caso, se atenderá a la precisión geográfica en la caracterización del término.

Para una valoración más ajustada, a cada término o concepto aconsejamos aplicar una puntuación parcial máxima de **0'25 puntos por definición.**

Dos conceptos regularmente contestados pueden suponer 0,25 puntos para así ajustar la calificación final de la pregunta.

➤ **Pregunta 2 (4 puntos).** Desarrollo de un tema

En esta pregunta se aconseja igualmente la valoración con un criterio amplio que se relacione con aspectos de contenido (2 puntos para el significado de la incorporación de España en 1986 en la UE, 2 puntos por la descripción de la importancia de las ayudas para el desarrollo de España y la convergencia real hacia Europa) y expositivos (claridad y organización sintética de los conocimientos, correcta localización y distribución espacial, comprensión y caracterización de los fenómenos geográficos y sus interrelaciones, junto con el uso de un vocabulario geográfico adecuado).

➤ **Pregunta 3 (2,5 puntos).** Comentario de climodiagramas de dos ciudades españolas (*puntuación: 2,5 puntos*):

El análisis y la comparación entre dos climodiagramas de dos ciudades españolas, el superior es de la ciudad de Alicante y el de debajo de la ciudad de Bilbao, los datos son valores medios entre los años 1,971 y el 2.000. Se recomienda para su valoración tener en cuenta el seguimiento de los epígrafes planteados en la propia pregunta: atendiendo al menos a:

- Análisis de las temperaturas.
- Análisis de las precipitaciones y el régimen pluviométrico.
- Análisis comparativo entre ambos.
- Tipo de clima y posible localización de la ciudad.

➤ **Pregunta 4 (2 puntos).** Localización y explicación de un hecho geográfico

En esta pregunta se recomienda la valoración de 1 punto para la correcta localización de las comunidades autónomas españolas según sea la distribución de la Tasa bruta de Natalidad en el 2010 (nacidos por cada 1.000). Y el punto restante acorde con la exposición de las razones de dicha distribución.

Se valorará igualmente la capacidad de extraer información, de analizar los datos y de caracterizar la situación observada además de relacionarlas con sus causas y sus consecuencias, utilizando para todo ello el vocabulario geográfico adecuado.

En toda la prueba se aconseja tener en cuenta los aspectos formales, su presentación, ortografía y redacción