



**PRUEBA DE ACCESO A GRADO SUPERIOR**

*Convocatoria de mayo de 2015*

**VERSIÓN EN CASTELLANO**

**INSTRUCCIONES DE LA PRUEBA**

- Dispone de **1 hora y 30 minutos** para realizar la prueba.
- El examen se debe presentar **escrito en bolígrafo** de tinta **AZUL** o **NEGRA**, en ningún caso se puede presentar a lápiz.
- **No** se pueden usar **teléfonos móviles** ni **aparatos electrónicos**.
- **No** se puede entrar al aula con **textos o documentos escritos**.

**DATOS PERSONALES DEL ALUMNO**

Nombre:

\_\_\_\_\_

Apellidos:

\_\_\_\_\_

DNI / NIE:

--	--	--	--	--	--	--	--	--	--

Calificación:

--

Firma del alumno:

--

**¡Buena Suerte!**

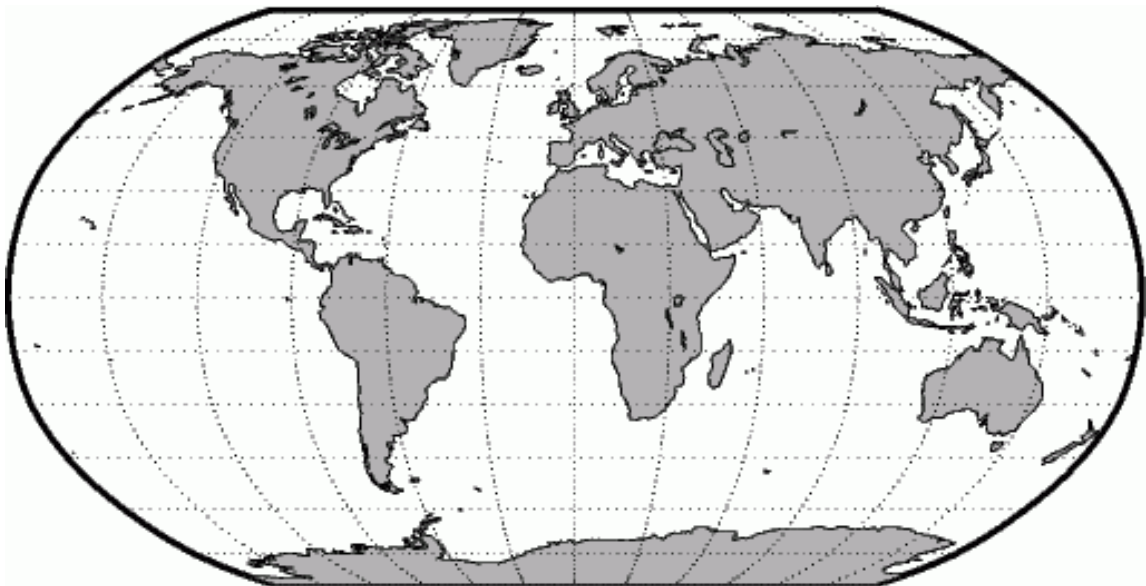
1. Para localizar un lugar sobre la superficie de la Tierra se utiliza la red de coordenadas geográficas, formada por líneas imaginarias: los paralelos y los meridianos.

Apartado A

- Define el concepto de paralelo y la información que nos aporta. (0,3 puntos)
- Indica el nombre del paralelo 0°. (0,1 puntos)
- Localízalo sobre el planisferio. (0,1 puntos)

Apartado B

- Define el concepto de meridiano y la información que nos aporta. (0,3 puntos)
- Indica el nombre del meridiano 0°. (0,1 puntos)
- Localízalo sobre el planisferio. (0,1 puntos)



2. El clima es un agente diferenciador de gran importancia en España.

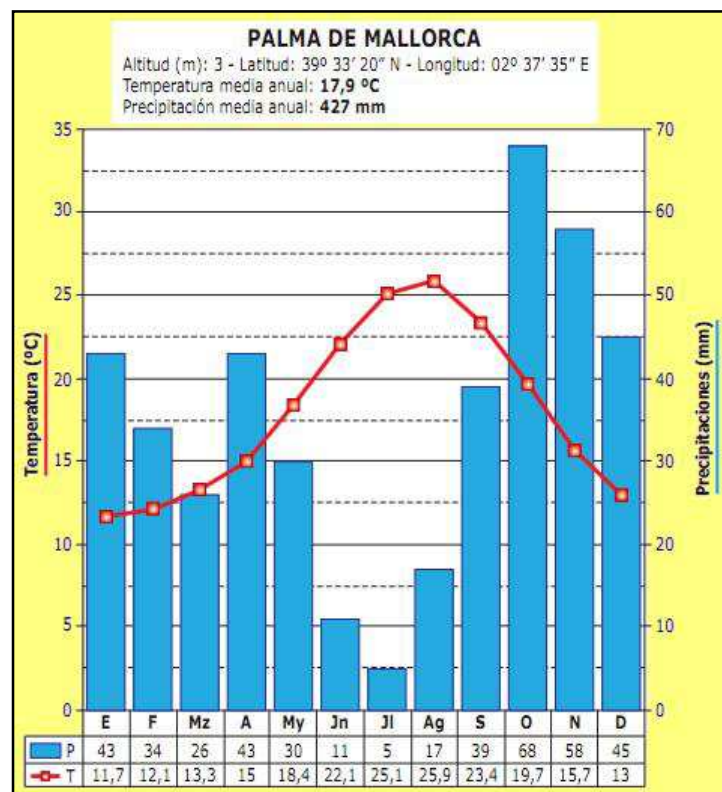
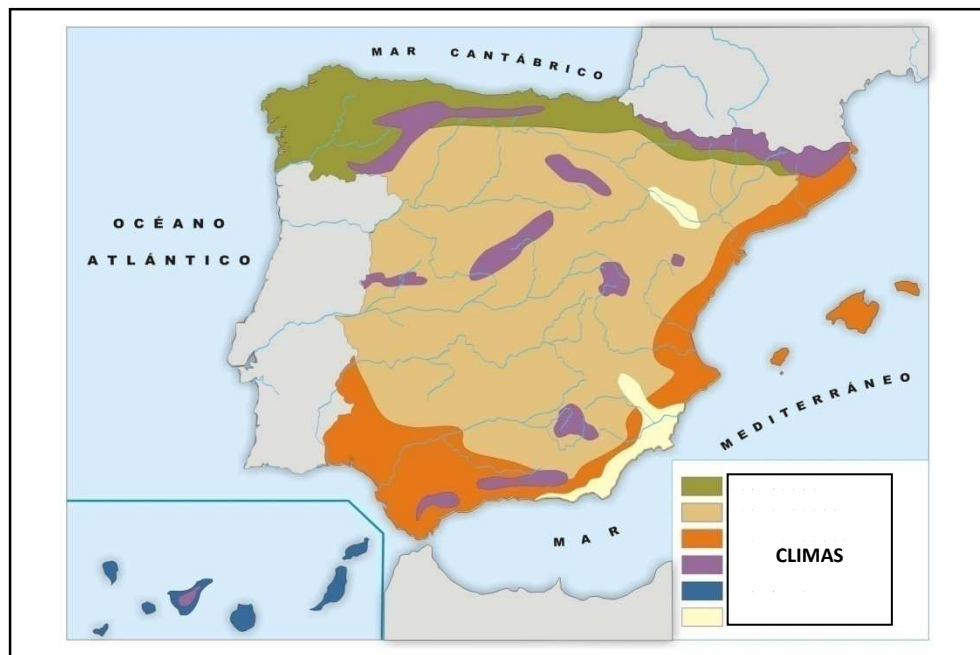
a) ¿Qué tipo de clima predomina en el centro de la Península Ibérica?  
\_\_\_\_\_ (0,1 puntos). Cita dos comunidades autónomas de  
este dominio climático: (0,2 puntos)

\_\_\_\_\_ y \_\_\_\_\_.

b) ¿Qué clima tenemos en nuestras Islas? \_\_\_\_\_. (0,1 puntos)

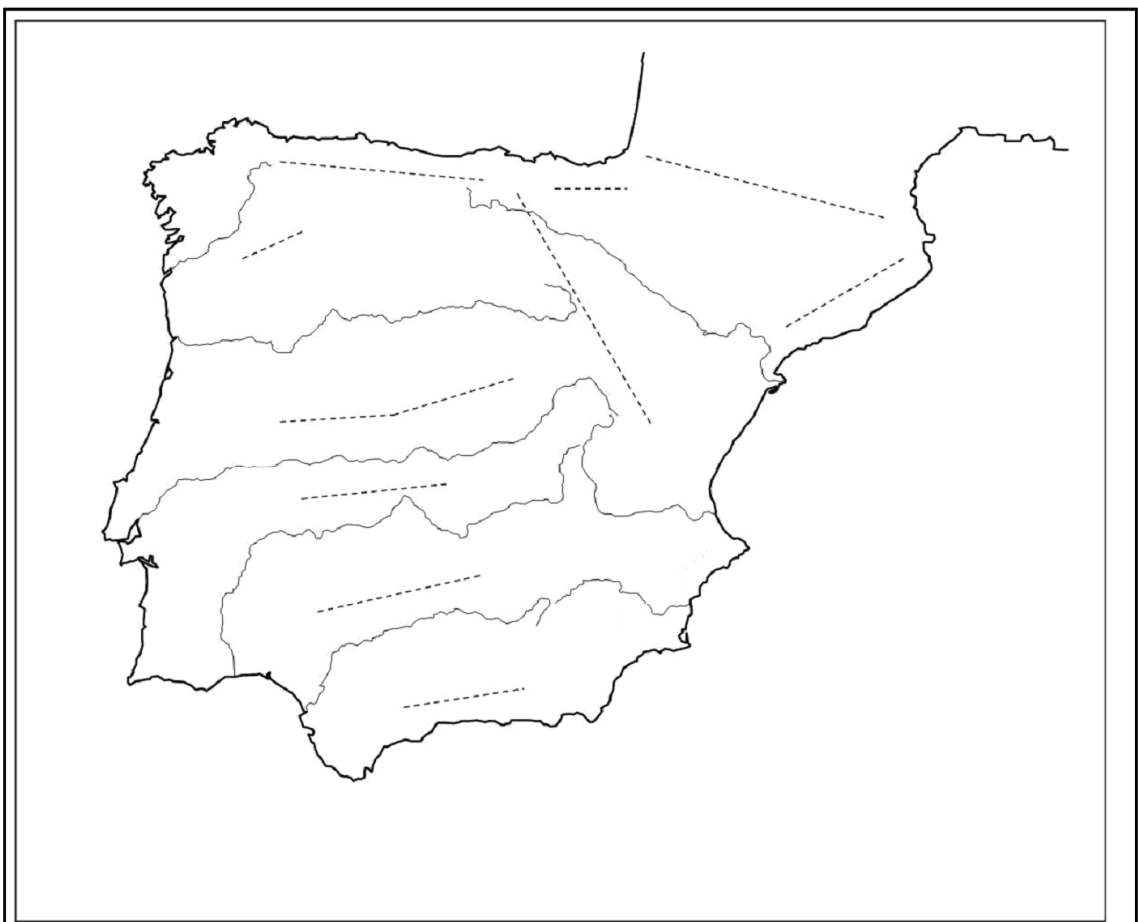
c) Interpreta el climograma y explica las características del dominio climático de las Illes Balears:

- El régimen anual de precipitaciones. (0,2 puntos)
- Las temperaturas a lo largo del año. (0,2 puntos)
- Los cambios estacionales. ¿Cómo son los veranos y los inviernos? (0,2 puntos)



3. La morfología de la península Ibérica presenta diversas unidades de relieve. Ubica las siguientes:

- a) Dos cordilleras o montañas interiores de la Meseta, localízalas y escribe sus nombres en el mapa. (0,4 puntos)
- b) Dos depresiones más importantes de la Península Ibérica, localízalas y escribe sus nombres en el mapa. (0,4 puntos)
- c) La cordillera que separa la Península Ibérica de Francia, localízala y escribe su nombre en el mapa. (0,2 puntos)



4. Las cuencas hidrográficas de España se dividen en tres vertientes. Según el mapa siguiente:

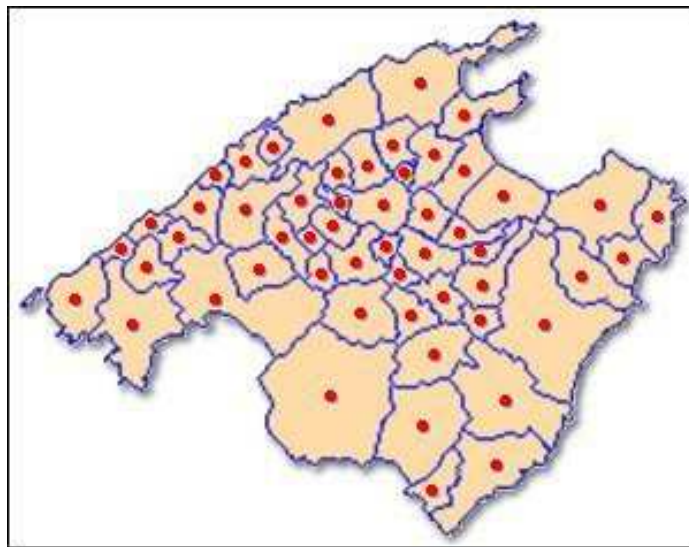
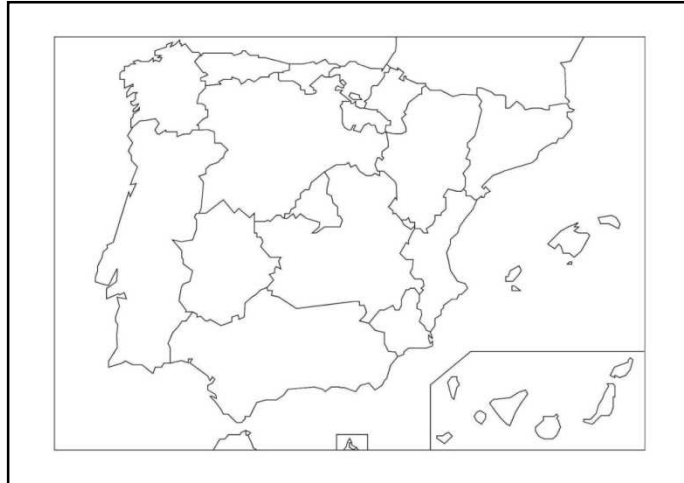


- a) ¿Cuáles son? Completa sus nombres en el cuadro siguiente. (0,3 puntos)
- b) ¿A qué vertiente pertenece cada uno de los ríos siguientes? Sigue el ejemplo del Llobregat escribiendo tus soluciones en el cuadro. (0,7 puntos)

Nervión, Segura, Miño, Ebro, Guadiana, Turia y Tajo.

Vertiente	Vertiente	Vertiente
		Llobregat

5. Mapa político del Estado español y de Mallorca.



- a) Delimita claramente los límites y escribe el nombre, en el mapa político, de las comunidades autónomas siguientes: (0,2 puntos)
1. Comunidad de Castilla - La Mancha.
  2. Comunidad Foral de Navarra.
- b) ¿En qué comunidad autónoma realizas la prueba de acceso al ciclo formativo de grado superior? \_\_\_\_\_ (0,1 puntos)  
Localízala sobre el mapa con un círculo y escribe su nombre. (0,1 puntos)
- c) ¿Qué dos bahías destacan en el norte de la Isla de Mallorca? (0,1 puntos por respuesta) \_\_\_\_\_ y \_\_\_\_\_.  
Localízalas sobre el mapa con sus nombres. (0,2 puntos)
- d) Nombre de la bahía situada al sur de la Isla de Mallorca: (0,1 puntos)  
\_\_\_\_\_. Escribe su nombre en el mapa. (0,1 puntos)



**6.** Las actividades económicas, de la población activa de un país, se clasifican en tres sectores económicos: primario, secundario y terciario o de servicios.

- a) Indica en qué áreas del Estado español predomina el sector secundario y en cuáles el terciario. (0,7 puntos)
- b) ¿Qué sector económico predomina en las Illes Balears y con qué actividad se relaciona? (0,3 puntos)

**7.** El Estado español es deficitario en fuentes de energía, por lo que debe importar la mayor parte de la energía que consume.

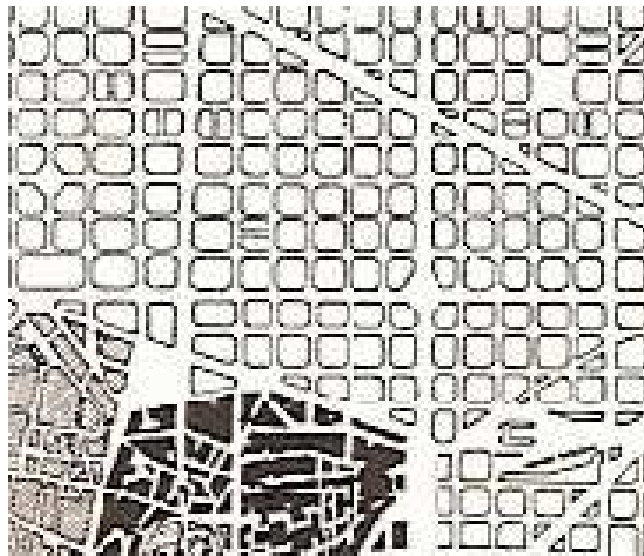
- a) Explica qué es el petróleo, si es una energía renovable y las características de la producción española. Menciona algún país que proporcione petróleo a España para cubrir sus necesidades de consumo, así como alguna noticia de actualidad relacionada con este tema. (0,5 puntos)
- b) ¿España es autosuficiente en gas natural? En caso de no serlo, ¿De dónde lo importa? (0,3 puntos)
- c) Aporta propuestas para solucionar la importante dependencia externa de las fuentes de energía que tiene España. (0,2 puntos)

**8.** Distingue, en el mapa adjunto, la localización de las ciudades o islas españolas siguientes: Madrid, Barcelona, Vitoria, Tenerife, Toledo, Eivissa, Santiago de Compostela, Murcia, Valladolid y Sevilla. Utilizad flechas si el nombre no cabe. (1 punto)



**9.** La estructura urbana presenta diferentes partes morfológicas, dependiendo de la su localización y de las diferentes funciones urbanas según las actividades económicas desarrolladas. Existen tres modelos fundamentales de entramado urbano: irregular, reticular y radial.

- a) ¿Qué dos tipos de trama urbana se pueden distinguir en el plano y a qué partes de la ciudad corresponden? (0,4 puntos)
- b) Explica tres funciones urbanas localizadas en el centro de las ciudades. (0,3 puntos)
- c) ¿Cuáles son las funciones económicas y sociales de los ensanches? (0,3 puntos)



**10.** Desde 1986, el Estado español es miembro de la Unión Europea. Explica las consecuencias económicas de la integración (*redacta al menos 5 o 6 líneas sobre cada cuestión*).

- a) ¿De qué subvenciones se ha beneficiado España? Nombra algunos fondos de ayuda. (0,6 puntos)
- b) ¿Qué es la unión económica y monetaria? Reflexiona y argumenta sobre las ventajas e inconvenientes de la introducción de la moneda única (euro) en la economía española. (0,4 puntos)