



UNIVERSIDAD AUTÓNOMA DE MADRID
PRUEBA DE ACCESO A LA UNIVERSIDAD PARA MAYORES DE 25 AÑOS
Convocatoria **2015**

ESPECÍFICA

MATERIA: GEOGRAFÍA DE ESPAÑA

INSTRUCCIONES GENERALES Y VALORACIÓN

INSTRUCCIONES: Dispone de dos opciones para contestar (A y B). **Debe escoger exclusivamente una de ellas.**

DURACIÓN DEL EJERCICIO: 90 minutos.

CALIFICACIÓN: La puntuación total será en ambas de **10 puntos**, correspondiendo a la primera parte **1,5 puntos**, a la segunda, **4 puntos**, a la tercera **2,5 puntos** y **2 puntos** a la cuarta.

OPCIÓN A

1ª PARTE

Entre los 8 términos geográficos siguientes **elija 6 y defínalos**.

Latitud, Borrasca, Fosa tectónica, Landa, Meandro, Cultivos forrajeros, Pesca de bajura, Deslocalización industrial.

2ª PARTE

LOS TIPOS DE CLIMAS DE ESPAÑA. Desarrolle, de manera sintética, el tema propuesto, atendiendo al menos a:

- Los tipos de climas: principales características de cada uno de ellos.
- Poner varios ejemplos de cada tipo.

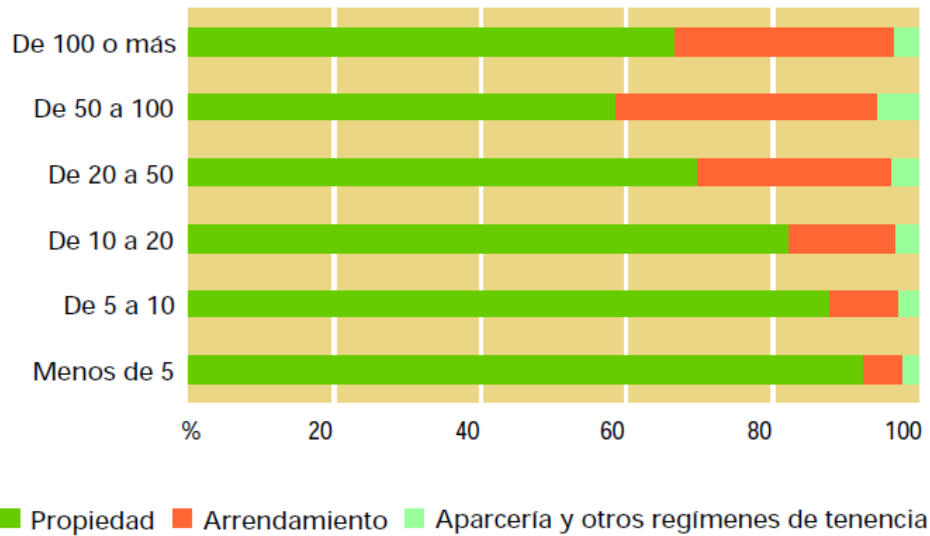
3ª PARTE

Comentario de gráficos sobre la superficie agrícola utilizada según el tamaño de las explotaciones y el régimen de tenencia:

Realice un comentario comparativo que recoge: **LA SUPERFICIE AGRÍCOLA UTILIZADA SEGÚN EL TAMAÑO DE LAS EXPLOTACIONES Y EL RÉGIMEN DE TENENCIA 2009.** Atendiendo al menos a:

- Tipo de gráfico.
- La importancia de los tamaños de las explotaciones según su superficie.
- Los distintos regímenes de tenencia.
- Su relación con los distintos tipos de agricultura.

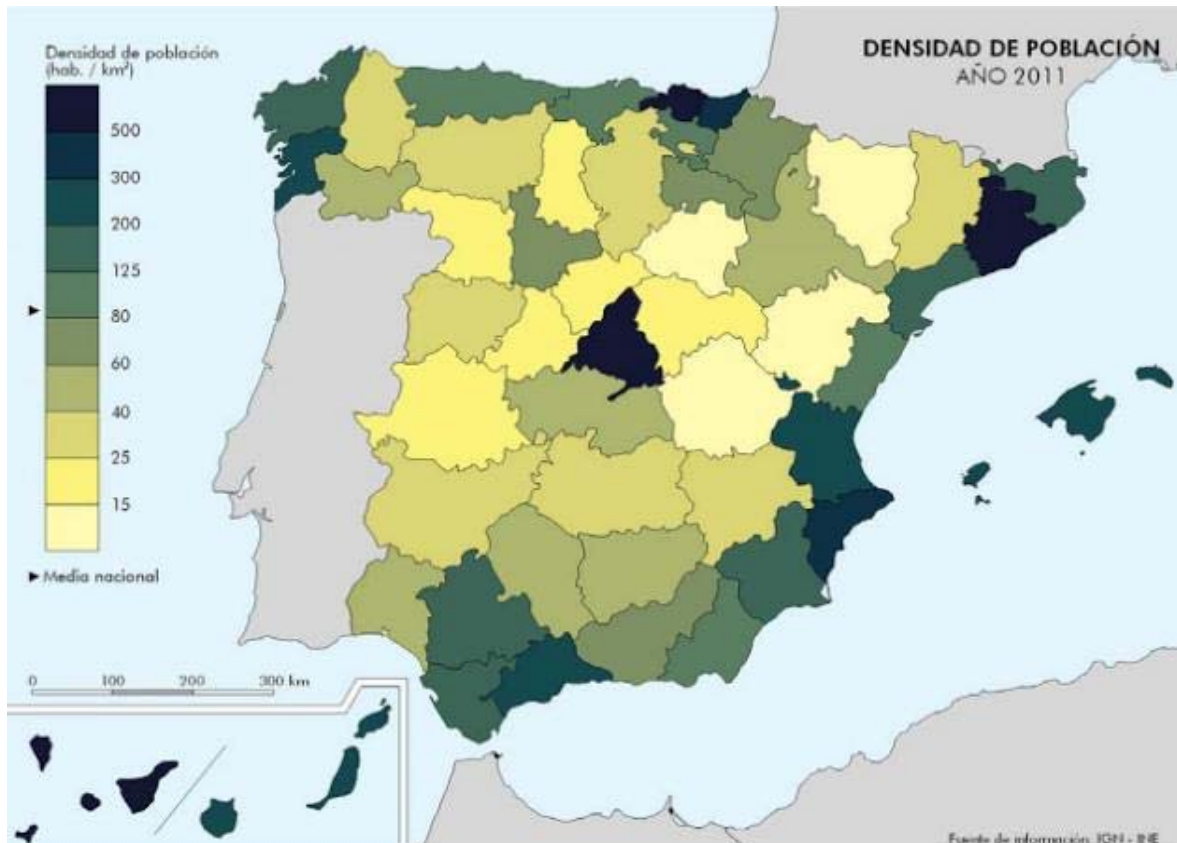
MATERIA: GEOGRAFÍA DE ESPAÑA



Fuente: www.ine.es

4ª PARTE

A partir del mapa adjunto, que recoge **LA DENSIDAD DE POBLACIÓN EN EL 2011**, enumere cinco Provincias que tienen una densidad superior a 300 hab/Km² y otras cinco Provincias con una densidad inferior a 25 hab/Km² y exponga las razones que explican esa distribución.



OPCIÓN B

1ª PARTE

Entre los 8 términos geográficos siguientes **elija 6 y defínalos**.

Proyección geográfica, Séismo, Cerro testigo, Desforestación, Turismo rural, P.A.C., Estiaje de un río, Hinterland.

2ª PARTE

LA RED URBANA Y EL TERRITORIO. Desarrolle, de manera sintética, el tema propuesto, atendiendo al menos a:

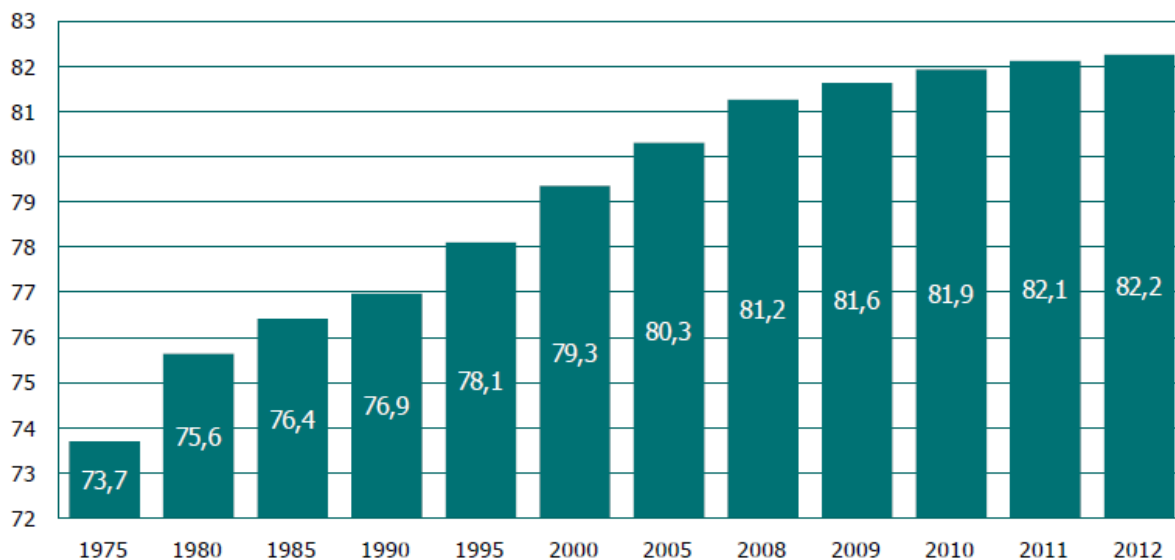
- Origen del actual sistema de ciudades español.
- Jerarquía urbana y subsistema regional de ciudades.
- Especialización funcional.
- Cambios recientes de la red de ciudades.

3ª PARTE

Comentario de gráficos sobre la esperanza de vida al nacer de 1975 al 2012:

Realice un comentario comparativo que recoge: **LA ESPERANZA DE VIDA AL NACER EN ESPAÑA ENTRE 1975 y 2012**. Atendiendo al menos a:

- Tipo de gráfico.
- Las transformaciones demográficas producidas entre las dos fechas.
- Las causas y consecuencias que implica dicha distribución.

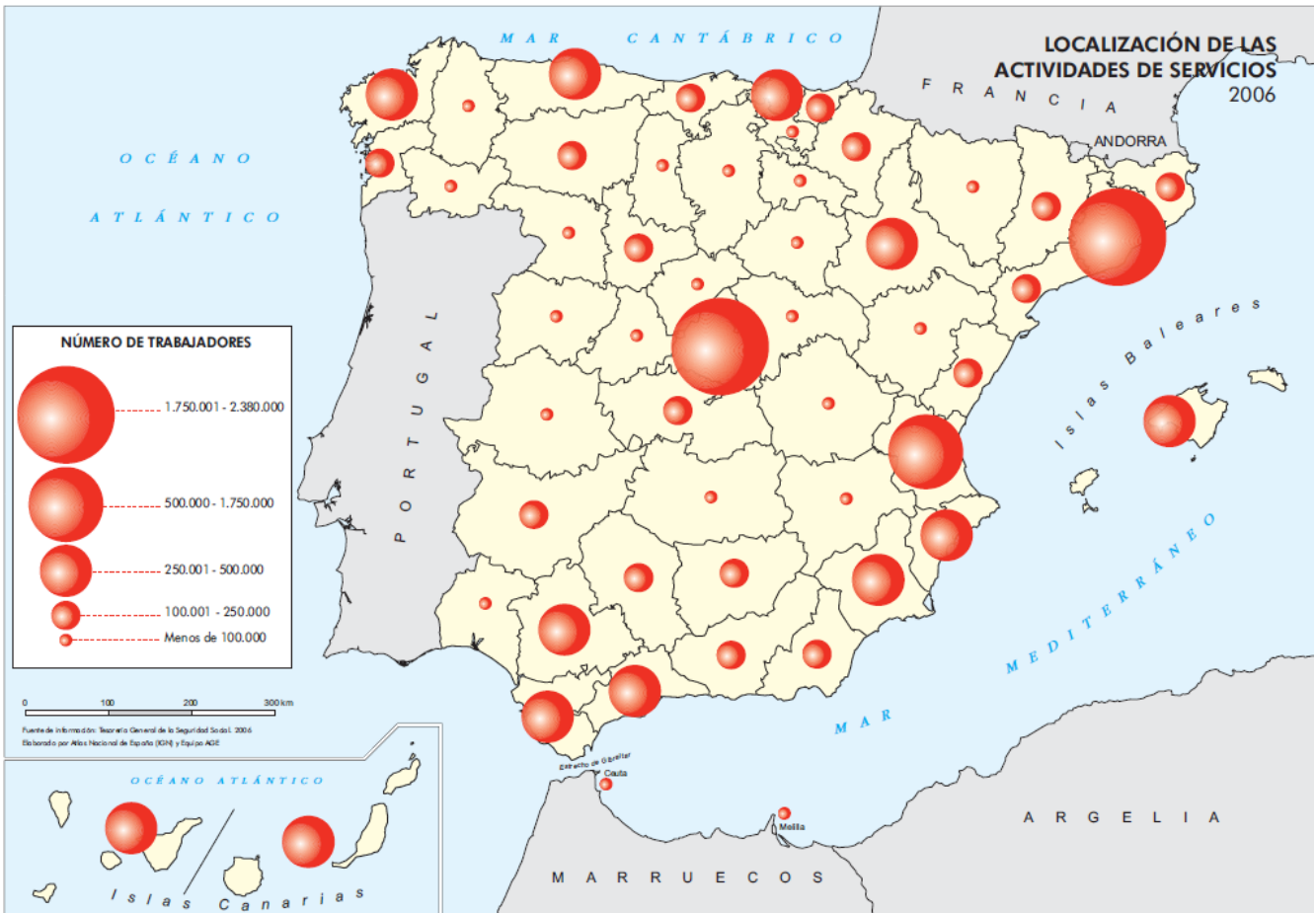


Fuente: Tablas de Mortalidad de España y sus Regiones (Ivbie)

MATERIA: GEOGRAFÍA DE ESPAÑA

4ª PARTE

A partir del mapa adjunto, que recoge **LA LOCALIZACIÓN DE LAS ACTIVIDADES DE SERVICIOS POR PROVINCIAS EN EL 2006**, enumere 10 provincias que tengan más de 250.000 trabajadores y exponga las razones que explican esa distribución.



Fuente: www.ign.es